


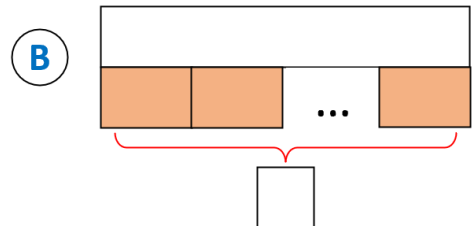
→ Associe chaque problème au bon schéma.

1. J'accroche 4 guirlandes contenant chacune 16 ampoules.


Combien y a-t-il d'ampoules ?



2. J'achète un kimono de judo à 69€. **Combien me rend le vendeur si je lui donne 100 € ?**




3. Papy range ses 81 timbres dans 9 pochettes. **Combien de timbres y a-t-il dans chaque pochette ?**



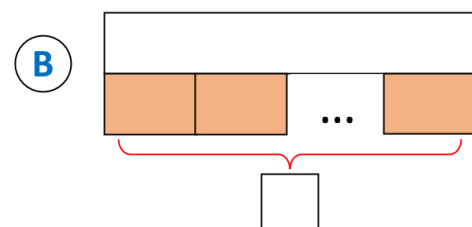
→ Associe chaque problème au bon schéma.

1. J'accroche 4 guirlandes contenant chacune 16 ampoules.

Combien y a-t-il d'ampoules ?



2. J'achète un kimono de judo à 69€. **Combien me rend le vendeur si je lui donne 100 € ?**



3. Papy range ses 81 timbres dans 9 pochettes. **Combien de timbres y a-t-il dans chaque pochette ?**

